

බස්නාහිර පළාත් අධ්‍යාපන දෙපාර්තමේන්තුව
 மேல் மாகாணக் கல்வித் திணைக்களம்
 Department of Education - Western Province

වර්ෂ අවසාන ඇගයීම
 ஆண்டிறுதி மதிப்பீடு - 2020
 Year End Evaluation

ශ්‍රේණිය } තරම } 11 Grade }	විෂයය } பாடம் } Subject }	පත්‍රය } வினாத்தாள் } I Paper }	කාලය } காலம் } Time }
සංගීතය (පෙරදිග)			පැය 01

සැලකිය යුතුයි:

- (i) සියලු ම ප්‍රශ්නවලට පිළිතුරු සපයන්න.
- (ii) අංක 01 සිට 40 තෙක් ප්‍රශ්නවල දී ඇති (1), (2), (3), (4) උත්තර වලින් නිවැරදි හෝ වඩාත් ගැලපෙන හෝ උත්තරය තෝරන්න.
- (iii) ඔබට සැපයෙන උත්තර පත්‍රයේ එක් එක් ප්‍රශ්නය සඳහා දී ඇති කව අතුරින් ඔබ තෝරාගත් උත්තරයෙහි අංකයට සැසඳෙන කවය තුළ (X) ලකුණ යොදන්න.
- (iv) එම පිළිතුරු පත්‍රයේ පිටුපස දී ඇති අනෙක් උපදෙස් ද සැලකිල්ලෙන් කියවා ඒවාද පිළිපදින්න.

- (01) විකෘති ස්වර දෙකක් පමණක් යෙදෙන නිර්දේශිත රාගය කුමක් ද?
 - (1) බිලාවල් (2) යමන් (3) හෙරවී (4) කාඟි
- (02) නිර්දේශිත රාග අතුරෙන් විකෘති ස්වර 4 ක් හා විවාදී ස්වර 5 ක් යෙදෙන රාගය කුමක්ද?
 - (1) හෙරවී (2) යමන් (3) කාඟි (4) භූපාලි
- (03) සංගීතයේ ප්‍රකෘති හා විකෘති ස්වර සංඛ්‍යාව පිළිවෙලින් දැක්වෙන පිළිතුර තෝරන්න.
 - (1) 2 , 5 (2) 2 , 4 (3) 7 , 5 (4) 7 , 4
- (04) දිල්ලැබාවට බෙහෙවින් සමාන තත්වාද්‍රව්‍ය භාණ්ඩයකි,
 - (1) සිතාර් (2) එස්රාජ් (3) මැන්ඩලින් (4) වයලින්
- (05) රාගධාරී ශාස්ත්‍රීය ගායනා අංගයක් ඉදිරිපත් කිරීමේදී ශ්‍රැතිය පවත්වා ගැනීමට වඩාත් සුදුසු තත්ත්‍රීය භාණ්ඩය දැක්වෙන පිළිතුර තෝරන්න.
 - (1) සිතාරය (2) තාම්පුරාව (3) එස්රාජය (4) හාර්මෝනියම්
- (06) නිර්දේශිත රාග දෙකක වාදී ස්වරය ගාන්ධාරය වන අතර, නිර්දේශිත එක් රාගයක එය සංවාදී ස්වරය වේ. එම රාග ත්‍රිත්වය දැක්වෙන පිළිතුර කුමක්ද?
 - (1) යමන්, භූපාලි, බිලාවල් (2) බිලාවල්, යමන්, භූපාලි
 - (3) කාඟි, බිලාවල්, යමන් (4) යමන්, භූපාලි, හෙරවී

අංක 7 හා 8 ප්‍රශ්නවලට පිළිතුරු සැපයීමට පහත දැක්වෙන ආරෝහණ අවරෝහණ ස්වර උපයෝගී කරගන්න.
 ස රි ම ප නි ස් , ස් නි ධ ප ම ග රි ස

- (07) ඉහත දැක්වෙන ආකාරයට රාගයක ආරෝහණ, අවරෝහණ යෙදී ඇත්නම්, එම රාගයේ ජාතිය වන්නේ,
 - (1) ෂාඩව - සම්පූර්ණ (2) ෂාඩව - ෂාඩව (3) ඔෆ්ඩව - සම්පූර්ණ (4) සම්පූර්ණ - සම්පූර්ණ
- (08) ඉහත දැක්වෙන ආරෝහණ ස්වර ඛන්ඩයේ දක්නට නොලැබෙන ස්වර නිර්දේශිත රාගයක වාදී, සංවාදී ස්වර වේ. එම රාගය කුමක්ද?
 - (1) හෙරවී (2) යමන් (3) කාඟි (4) භූපාලි

(09) රාග ගායන සමය පිළිබඳ කාලසටහන අනුව ප.ව. 6.00 - 9.00 අතර කාලය හඳුන්වන නාමය හා එම කාලයේ ගැයීමට සුදුසු රාගයක් දැක්වෙන පිළිතුර කුමක්ද?

- (1) රාත්‍රී ප්‍රථම ප්‍රහරය - යමන්
- (2) රාත්‍රී ප්‍රථම ප්‍රහරය - බිලාවල්
- (3) රාත්‍රී දෙවන ප්‍රහරය - යමන්
- (4) රාත්‍රී දෙවන ප්‍රහරය - බිලාවල්

(10) කාඟි රාගයේ වාදි, සංවාදි, අනුවාදි, විවාදි යන ස්වර සියල්ල අන්තර්ගත ස්වර පාදය තෝරන්න.

- (1) /රි ගු රි ම / ගු රි ස රි / ප - ප ම / ගු රි ස - /
- (2) /ම ප නි නි / ස් - නි ස් / නි ධ ප ම / ගු රි ස - /
- (3) /රි නි ධ නි / ප ධ ම ප / රි ගු රි ම / ගු රි ස - /
- (4) /ස ස රි රි / ගු ගු ම ම / ප - ප ම / ගු රි ස - /

(11) /ගු ප්‍රධ ස්- ධ ප්‍ර / ස් ස් ධ ප්‍ර ගු රි ස්- /

ඉහත සඳහන් තානාලංකාරය

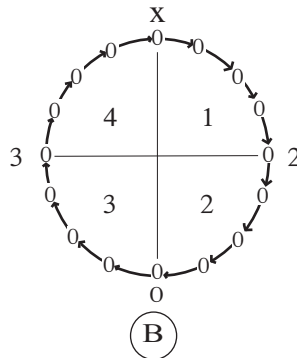
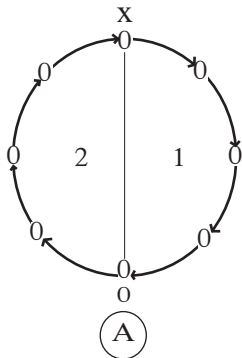
- (1) බිලාවල් රාගයට අයත් සරල තානයකි.
- (2) බිලාවල් රාගයට අයත් මිශ්‍ර තානයකි.
- (3) භූපාලි රාගයට අයත් සරල තානයකි.
- (4) භූපාලි රාගයට අයත් මිශ්‍ර තානයකි.

(12) නිර්දේශිත තාල තුනක බලිස්ථාන, තාලයේ 4,5,6 යන මාත්‍රා මත පිහිටයි. එම තාල තුන වන්නේ පිළිවෙලින්,

- (1) බෙම්ටෝ, දාදරා, කෙහෙර්වා
- (2) දාදරා, ජප්තාල්, කෙහෙර්වා
- (3) කෙහෙර්වා, ජප්තාල්, ත්‍රිතාල්
- (4) දාදරා, කෙහෙර්වා, ජප්තාල්

(13) විභාගයකට හිමි මාත්‍රා ගණන සමාන තාල යුගලයකි.

- (1) දාදරා, බෙම්ටෝ
- (2) කෙහෙර්වා, ත්‍රිතාල්
- (3) දීප්චන්දි, ජප්තාල්
- (4) කෙහෙර්වා, ජප්තාල්



(14) ඉහත A හා B රූප සටහන් මගින් හින්දුස්ථානී තාල දෙකක ආචර්ත දක්වා ඇත. එම තාල දෙක කුමක්ද?

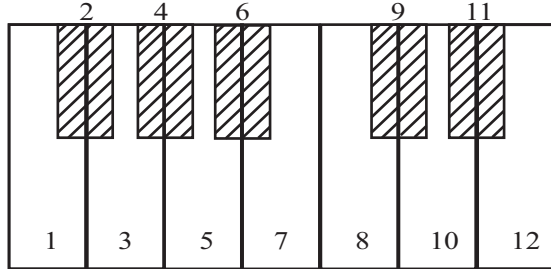
- (1) ලාවණි, ත්‍රිතාල්
- (2) කෙහෙර්වා, දීප්චන්දි
- (3) ලාවණි, කෙහෙර්වා
- (4) කෙහෙර්වා, ත්‍රිතාල්

(15) “මන්නාරම් පිටිවැල්ලේ...” “කවිරුදෝ අර කවිලුවෙන්...” යන ගීත දෙකේ තනු නිර්මාණ තුළ නිර්දේශිත රාග දෙකක ඡායාව දැකිය හැකිය. එම රාග දෙක කුමක්ද?

- (1) බිලාවල්, භූපාලි
- (2) බිලාවල්, හෙරව්
- (3) භූපාලි, හෙරව්
- (4) භූපාලි, කාඟි

- (16) හෙරවී රාගාශ්‍රිතව තනු නිර්මාණය වූ වික්‍රපට ගීතයකි,
 (1) තෙරේ මේරේ... (2) තු ගංගා කී ...
 (3) දුනියාකේ රඛවාලේ ... (4) ජනක ජනක පායල ...

අංක 17 සිට 19 දක්වා ප්‍රශ්න වලට පහත දී ඇති ස්වර පුවරුව ඇසුරෙන් පිළිතුරු සපයන්න.



- (17) ඉහත ස්වර පුවරුවේ අංක 1 හා 3 වාදී ස්වර වන රාග දෙක දැක්වෙන පිළිතුර තෝරන්න.
 (1) කාඟි, භූපාලි (2) බ්ලාවල්, භූපාලි (3) හෙරවී, කාඟි (4) බ්ලාවල්, කාඟි
- (18) සංගීතයේ අවල ස්වර දැක්වෙන අංක සහිත පිළිතුර වන්නේ,
 (1) 1, 8 (2) 3, 8 (3) 1, 7 (4) 7, 12
- (19) යමන් රාගයේ යෙදෙන විකෘති ස්වරය දැක්වෙන අංකය සහිත පිළිතුර වන්නේ,
 (1) 2 (2) 4 (3) 6 (4) 9
- (20) මාත්‍රා 3/4 රිද්ම රටාවට අනුව ගැයෙන ගීතයකි,
 (1) සසර වසන තුරු... (2) රන්වන් කරල් සැලේ ...
 (3) ගුමු ගුමුව වදුලේ ... (4) ඇසේ මතු වන කදුළු බිඳුගෙන ...
- (21) 'දුල් නිමල් සිසි සේ දිසි...' යන ගීතය තුළ අන්තර්ගත සුවිශේෂී ගායන අංගය කුමක්ද?
 (1) තානාලංකාර (2) උරුට්ටුව (3) දොහොරාව (4) ආලාප
- (22) පහත ගීත අතුරෙන් නව නාට්‍ය ගීතය තෝරන්න.
 (1) ප්‍රේමයෙන් මන රන්ජන වේ... (2) ඒ බුදුබව පතමින ලොබිනේ...
 (3) යානන අතුල මල්පෙති ... (4) සවන් දී පෙර රාම වරිනේ ...



ඉහත දැක්වෙන Key Signature (කී සිග්නේචරය) අයත් Scale (ස්කේලය) කුමක්ද?
 (1) F Major (2) C Minor (3) G Major (4) G Minor

- (24) සේ ගීයකට උදාහරණයකි,
 (1) රන් දෑ කැති ගෙන... (2) බාල ළමාවරු...
 (3) ඉහල වෙලේ තියෙන ... (4) ලක්ෂ්මී බුජවාසා...
- (25) සබරගමුව වන්නමක කොටස් නිවැරදිව දැක්වෙන පිළිතුර තෝරන්න.
 (1) දවුල් පදය, තානම, කවිය, කලාසම, අඩව්ව
 (2) බෙරපදය, තානම, කවිය, කලාසම, ඉරට්ටිය
 (3) දවුල් පදය, තානම, කවිය, කස්තිරම, අඩව්ව
 (4) බෙරපදය, තානම, කවිය, කස්තිරම, අඩව්ව

(26) /ස - රි / ග - ම / ග - - / ස - - /

ඉහත ස්වර පාදය හා සුසංගත (Harmony) වන ස්වර පාදය දැක්වෙන පිළිතුර වන්නේ,

- (1) / ස - ග / ම - ධ / ප - - / ග - - / (2) / රි - ග / ම - ප / ම - - / රි - - /
 (3) / ග - ම / ප - ධ / ප - - / ග - - / (4) / ප - ධ / නි - ස / ම - - / රි - - /

(27) “වෙල්යායෙන් හමන සුළං වෙහෙස නිවන්නේ”

ඉහත දැක්වෙන ගී පාදයේ,

- (1) ලඝු අක්ෂර 11 ගුරු අක්ෂර 04 කි. (2) ලඝු අක්ෂර 10 ගුරු අක්ෂර 05 කි.
 (3) ලඝු අක්ෂර 08 ගුරු අක්ෂර 06 කි. (4) ලඝු අක්ෂර 08 ගුරු අක්ෂර 05 කි.

(28) ප්‍රාග්, ජුපිටර් වැනි සීමිත නිර්මාණය කළ සංගීතඥයා වන්නේ,

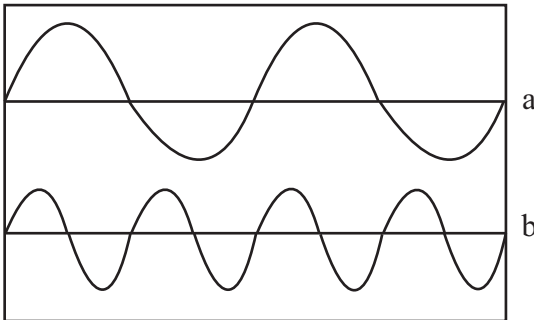
- (1) බ්‍රොක්වන් (2) මෝසාර්ට් (3) යානි (4) රන්මාන්

/ ග ම ප / ග ම රි / ස රි ග / ම ප - /

(29) ඉහත ස්වර මධ්‍යම භාවයෙන් දැක්වෙන පිළිතුර තෝරන්න.

- (1) / ධ නි ස / ධ නි ප / ම ප ධ / නි ස - / (2) / ධ නි ස / ධ නි ප / ම ප ධ / නි ස - /
 (3) / ප ධ නි / ප ධ ප / ග ම ප / ධ ස - / (4) / ප ධ නි / ප ධ ප / ම ප ධ / නි ස - /

(30)



ඉහත 'a' ධ්වනි තරංගයෙන් මධ්‍ය 'ස' ස්වරය නිරූපණය වේ නම් 'b' ධ්වනි තරංගයෙන් නිරූපණය වන ස්වරය වන්නේ,

- (1) මන්ද ස (2) මධ්‍ය රි (3) මධ්‍ය ප (4) උච්ච ස

(31) ‘ගම්හිර කාලිංග නුවර...’ මෙම ගී පාදය ගැයීමේදී සභාය වාදනයට යොදාගතහැකි අවනද්ධ වාද්‍ය භාණ්ඩය වන්නේ,

- (1) ගැටබෙරයයි. (2) පහතරට බෙරයයි. (3) දඬුලයි. (4) මද්දලයයි.

(32) සච්ඡය හා මධ්‍යමය අතර සංඛ්‍යාතයන්හි අනුපාතය 3:4 කි. සච්ඡයේ සංඛ්‍යාතය 240 නම් මධ්‍යමයේ සංඛ්‍යාතය කීයද?

- (1) 320 (2) 340 (3) 350 (4) 360

(33) සරල බස් වහර හා සරල තනුවකින් යුතු, සංගීතයට වඩා කටහඬට ප්‍රමුඛස්ථානයක් ලබා දුන් ගීතයක් වන්නේ,

- (1) ආදරයේ උල්පත වූ අම්මා.... (2) එන්නද මැණිකේ මමත් දියඹටා ...
 (3) සිරි බුද්ධගයා විහාරේ ... (4) දසබලධාරී බුදු රජු පෙර කළ ...

බස්නාහිර පළාත් අධ්‍යාපන දෙපාර්තමේන්තුව மேல் மாகாணக் கல்வித் திணைக்களம் Department of Education - Western Province			
වර්ෂ අවසාන ඇගයීම ஆண்டிறுதி மதிப்பீடு - 2020 Year End Evaluation			
ශ්‍රේණිය } 11 தரம் } 11 Grade }	විෂය } පෙරදිග සංගීතය பாடம் } පෙරදිග සංගීතය Subject }	පත්‍ර } II வினாத்தாள் } II Paper }	කාලය } ෪෫ කාලය } ෪෫ Time } ෪෫

සැලකිය යුතුයි:

♦ පළමුවන ප්‍රශ්නය ඇතුළුව ප්‍රශ්න පහකට පමණක් පිළිතුරු සපයන්න.

(01) අංක (i) සිට (iv) තෙක් අසා ඇති ප්‍රශ්නවලට කෙටි පිළිතුරු ප්‍රශ්න අංකය ද සමඟින් ඔබේ පිළිතුරු පත්‍රයෙහි ලියන්න.

- (i) නිරිසිදු, නිරිසිදු, නිරිසිදු, මෙම ස්වර අභ්‍යාසය අයත් රාගයට අනුව එහි ඊළඟ පියවරට අදාළ ස්වර ලියන්න.
- (ii) නින්දස්ථානී සංගීතයේ ප්‍රධාන තාල වාද්‍ය භාණ්ඩය නම් කරන්න.
- (iii) “අත ගව් ගණන් දුරින්...” යන ගී පාදය ගායනයේදී වැසීමට සුදුසු නින්දස්ථානී තාලය නම් කරන්න.
- (iv) ‘ඇදුරුකුමා වන්න මගේ ...’ මෙම ගීතය ඇතුළත් නාට්‍යය කුමක්ද?

● අංක (v) සිට (viii) තෙක් හිස්තැන් සඳහා නිවැරදි පිළිතුරු ප්‍රශ්න අංකය ද සමඟින් ඔබේ පිළිතුරු පත්‍රයේ ලියන්න.

- (v) “කුස පබාවතී” නාට්‍යයේ සංගීතය නිර්මාණය කළේ මහතාය.
- (vi) “මෑ වේ මා දුටු කොමල ලියා....” ගීතය ඇතුළත් වන්නේ නාට්‍යයේය.
- (vii) “ගමට කලින් හිරු මුළුතැන්ගෙට” ගීතයේ තනු නිර්මාණය කළේ මහතාය.
- (viii) සබරගමු සම්ප්‍රදායට අයත් වන්නම තිත් රූප දෙකකට ගැයේ.

● අංක (ix) හා (x) හි හිස්තැන් සඳහා සුදුසුම පිළිතුරු වරහන් තුළින් තෝරා ප්‍රශ්න අංකයද සමඟින් ඔබේ පිළිතුරු පත්‍රයෙහි ලියන්න.

- (ස්පෙල් මනෝරත්න, W.B. මකුලොලුව, ලයනල් රත්වල, රෝහණ බැඳ්දගේ)
- (ix) ජන සංගීතය ඇසුරෙන් තනු නිර්මාණය වූ “මල්සරා බැල්ම හෙළා...” ගීතය ගයන මහතා, මහතාගේ අන්දරේලා නාට්‍යයේ සංගීත නිර්මාණය කොට ඇත.
 - (x) “වන්නම් සවුදම් ගායන..” ගීතය ගයන මහතා මහතාගේ “දෙපානෝ” ගීත නාට්‍යයටද රංගනයෙන් දායක වී ඇත.

(02) පහත දැක්වෙන්නේ නිර්දේශිත රාග දෙකකට අයත් තොරතුරු දෙකකි.

- A - ශුද්ධ ස්වර සහිත සම්පූර්ණ ජාති රාගයකි.
- B - ස්වර දෙකක් වර්ජ්‍ය වන ශුද්ධ ස්වර සහිත රාගයකි.

- (i) ඉහත A හා B අක්ෂර යටතේ දැක්වෙන ප්‍රකාශ තුළින් පිළිබිඹු වන රාග දෙක පිළිවෙළින් නම් කරන්න.
- (ii) එම රාග දෙකෙන් එක් රාගයක මධ්‍යලය ගීතයක ස්ථායී, අන්තරා කොටස් ගීත ස්වර ප්‍රස්තාර කරන්න. නැතහොත් වාදිතයක ස්ථායී, අන්තරා කොටස් ප්‍රස්තාර කර ඊට උචිත මාත්‍රා 8 කට නොඅඩු තානාලංකාර දෙකක් තාලානුකූලව ප්‍රස්තාර කරන්න.
- (iii) ඉහත රාග දෙකට අදාළව පහත වගුවේ අසා ඇති තොරතුරු සපයන්න.

	ථායීය	ගායන සමය	රාග සංගති
A රාගය	a)	b)	c) d)
B රාගය	e)	f)	g) h)

- (03) A - / ස ස රී රී / ග ග ම ම / ප - - ම / ප ධ නි ස /
- B - / ම ග රී / ස රී නී / ස - ධ / නී ස - /
- C - / නි ධ - ප / ම ප ග ම / ප - - - / ප ම ග රී /

ඉහත A, B, C අක්ෂර යටතේ දැක්වෙන්නේ නිර්දේශිත රාග තුනක විකෘති ස්වර සටහන් නොකළ සර්ගම් පාද තුනකි.

- (i) එම අක්ෂර ඔබේ පිළිතුරු පත්‍රයේ ලියා එක් එක් රාගයට අදාළව විකෘති ස්වර සටහන් කොට, ස්වර පාදය නැවත නිවැරදිව ලියන්න.
- (ii) එම ස්වර පාද අයත් රාග තුනේ නම් ලියන්න.
- (iii) A හා B අක්ෂර යටතේ දැක්වෙන රාග දෙක ඇසුරෙන් තනු නිර්මාණය වූ නූර්ති ගී දෙකක මුල් පාද ලියන්න.
- (iv) "C" අක්ෂරය යටතේ දක්වා ඇති රාගයේ මුඛ්‍යාංගය ලියන්න.

- (04) (i) ජන ගී වර්ගීකරණය අනුව ගැමි ගී නිර්මාණයට පදනම් වූ මූලික කරුණු තුන ලියන්න.
- (ii) පහත දැක්වෙන ගැමි ගී එම කොටස් තුනට අනුව වෙන්කොට ලියන්න.
 - a) බුද්ධං සරණේ සිරස දරාගෙන ...
 - b) කළු වත් කළු රුවසි මංගෝ දිලිසෙනවා ...
 - c) මලිඳු තිබෙන්නේ කොයි කොයි දේසේ ...
 - d) නුඹේ අම්මා කිරිට ගියා ...

- e) තණ්ඩලේ දෙන්නා දෙපොලේ ...
- f) පෙරයම බුද්ධං සරණේ ගඤ්ඤයි ...

- (iii) ගැමි ගී සේ ගී අතර වෙනස්කම් දෙකක් ලියන්න.
- (iv) සබරගමුව වන්නමක හෝ පහතරට සින්දු වන්නමක තානම පද ප්‍රස්තාර කරන්න.

(05) (i) හින්දුස්ථානි තාල ඇසුරින් පහත දක්වා ඇති අසම්පූර්ණ වගුව සම්පූර්ණ කරන්න.

තාලය	මාත්‍රා	විභාග	බලි ස්ථාන	සමාන දේශීය තිත
දාදරා තාලය	a).....	2	1	b).....
c).....	8	d).....	1	මහ තනි තිත
ජප් තාලය	e).....	4	1	f).....
දීප්වන්දි තාලය	g).....	4	1	h).....
i).....	j).....	4	1	මහ තනි තිත

- (ii) විභාගයකට මාත්‍රා 4 බැගින් යුත්, විභාග 4 කින් සමන්විත තාලයක ධේකාව නියමිත තාල සංඥා සහිතව ප්‍රස්තාර කරන්න.
- (iii) පහත දැක්වෙන ධේකාවන්හි හිස්තැන් පුරවා නැවත ලියන්න.

A)

මාත්‍රා	1	2	3	4	5	6	7	8	9	10
ධේකාව	-	-	ධි	ධි	න	-	-	ධි	ධි	න
තාල සංඥා	X		2			0		3		

B)

මාත්‍රා	1	2	3	4	5	6	7	8
ධේකාව	-	-	න	ති	න	ක	-	-
තාල සංඥා	X				0			

(06) (i) පහත සඳහන් වන්නේ සොකර්, කෝලම්, නාඩගම්, හා නූර්කි යන රංග සම්ප්‍රදායයන් 4 කට අදාළ තොරතුරු කිහිපයකි. එම රංග සම්ප්‍රදායයන්ගේ නම් ලියා එක් එක් කරුණ අදාළ රංග සම්ප්‍රදාය යටත් ගොනු කරන්න.

- ★ කමත රංග භූමිය වේ.
- ★ කරලිය.
- ★ සෑම වර්තයක්ම වෙස්මුහුණු පළඳියි.
- ★ තානායම් පොළ.
- ★ රකිනු ඊශ්වරා.
- ★ උරුට්ටුව නම් ගීතාංගය ඇතුළත් වේ.
- ★ රංග ශාලාවක් තුළ වේදිකා ගත වේ.
- ★ ගම්හිර කාලිංග නුවර නිරිඳුගෙ...
- ★ වෙදා නටන්නේ පළමුව සබයට එන්නේ...
- ★ ගීත වල ස්ථායී, අන්තරා, ආකෘතිය ඇත.
- ★ පායාලා අඹරේ...
- ★ පරයා, ආඬිගුරු, වෙදරාල වර්ත ඇත.

(ii) එක් එක් රංග සම්ප්‍රදායයේ භාවිතා කරන අවනද්ධ භාණ්ඩය අදාල රංග සම්ප්‍රදායයේ නාමය යටතේ ලියන්න.

(iii) ලාංකේය නාට්‍ය ගීත 4 ක් දැක්වෙන පහත සඳහන් වගුවේ හිස්තැන් පුරවන්න.

ගීත	නාට්‍යයේ නම
<ul style="list-style-type: none"> • නෙයිනගෙ සුදුව (පළමුව මම වැන්දා බුදුන්) • කුමටද සොබනියෙ • හනික වරෙව් කොල්ලනේ • හෙළ ගැඹුරුයි 	<ul style="list-style-type: none"> a) b) c) d)

(07) පහත දැක්වෙන අපරදිග ස්වර ප්‍රස්තාරය ඇසුරෙන් අසා ඇති ප්‍රශ්නවලට පිළිතුරු සපයන්න.



- (i) ඉහත ප්‍රස්තාරයේ Time Signature ලියා දක්වන්න.
- (ii) ඉහත සඳහන් අපරදිග ස්වර ප්‍රස්තාරය පෙරදිග ක්‍රමයට ප්‍රස්තාර කරන්න.
- (iii) ඉහත ප්‍රස්තාරයේ පළමු විභාග 4 ට ගැලපෙන Chords ලියන්න.
- (iv) එම ප්‍රස්තාරයේ a, b, c අක්ෂර යටතේ දැක්වෙන සංකේත නම් කරන්න.