

බස්නාහිර පළාත් අධ්‍යාපන දෙපාර්තමේන්තුව  
 Department of Education - Western Province  
 බස්නාහිර පළාත් අධ්‍යාපන දෙපාර්තමේන්තුව  
 Department of Education - Western Province  
 බස්නාහිර පළාත් අධ්‍යාපන දෙපාර්තමේන්තුව  
 Department of Education - Western Province  
 බස්නාහිර පළාත් අධ්‍යාපන දෙපාර්තමේන්තුව  
 Department of Education - Western Province

|  |                                 |                                     |                             |
|--|---------------------------------|-------------------------------------|-----------------------------|
| <b>වර්ෂ අවසාන ඇගයීම</b><br><b>ஆண்டிறுதி மதிப்பீடு - 2017</b><br><b>Year End Evaluation</b> |                                 |                                     |                             |
| ශ්‍රේණිය } 11<br>தரம் } 11<br>Grade } 11   | විෂයය }<br>பாடம் }<br>Subject } | පත්‍රය }<br>வினாத்தாள் }<br>Paper } | කාලය }<br>காலம் }<br>Time } |
| පෙරදිග සංගීතය  |                                 | I                                   | පැය 01                      |

සැලකිය යුතුයි:

- (i) සියලු ම ප්‍රශ්නවලට පිළිතුරු සපයන්න.
- (ii) අංක 01 සිට 40 තෙක් ප්‍රශ්නවල දී ඇති 1 , 2 , 3 , 4 යන පිළිතුරුවලින් නිවැරදි හෝ වඩාත් ගැලපෙන පිළිතුර තෝරන්න.
- (iii) ඔබට සැපයෙන පිළිතුරු පත්‍රයේ එක් එක් ප්‍රශ්නය සඳහා දී ඇති කව අතුරින් ඔබ තෝරාගත් පිළිතුරෙහි අංකයට සැසඳෙන කවය තුළ (X) ලකුණ යොදන්න.

- (01) ශුද්ධ ස්වර වලින් පමණක් සමන්විත වන රාග දෙක කුමක් ද?
  - (1) බ්‍රහ්මාර් - භූපාලි
  - (2) භූපාලි - කාලි
  - (3) බ්‍රහ්මාර් - කාලි
  - (4) යමන් - බ්‍රහ්මාර්
- (02) ස රි ම ප නි ස්වර අනුවාදී වන රාගය කුමක් ද?
  - (1) බ්‍රහ්මාර්
  - (2) කාලි
  - (3) යමන්
  - (4) හෙරව්
- (03) ග, නි ස්වර පමණක් විකෘති වන රාගයේ විවාදී ස්වර වන්නේ,
  - (1) කෝමල ග නි
  - (2) කෝමල ධ නි
  - (3) ශුද්ධ ග නි
  - (4) ශුද්ධ ධ නි
- (04) ග රි ස ධ , ස රි ග යන ස්වර සංගතිය යෙදෙන රාගයේ,
  - (1) වාදී ස්වරය ධෙවනසයි
  - (2) ගායන සමය දිවා ප්‍රථම ප්‍රහාරයයි
  - (3) මේලය කළ්‍යාණ වේ
  - (4) ම සහ නි ස්වර වාදී සංවාදී වේ
- (05) රාගධාරී ශාස්ත්‍රීය ගායනා අංගයක් ඉදිරිපත් කිරීමේ දී ශ්‍රැති හා තාල පවත්වා ගැනීමට සුදුසුම භාණ්ඩ යුගලය නම්,
  - (1) තාම්පුරාව, වයලීනය
  - (2) සිතාරය, තබ්ලාව
  - (3) වයලීනය, තබ්ලාව
  - (4) තාම්පුරාව, තබ්ලාව
- (06) මද්දලයෙන් වාදනය කරන පදයකි.
  - (1) ජෙං ජෙං තරිකිට්
  - (2) රත් තං කිට් දිත් තං
  - (3) ධින්ත ධිනක තින්ත ධිනක
  - (4) දොමිකික කිතදොමි
- (07) “සම්” හා “බලි” ස්ථාන පමණක් යෙදෙන තාල යුගලය කුමක් ද?
  - (1) දාදරා - බෙම්ටො
  - (2) දාදරා - ත්‍රිතාලය
  - (3) බෙම්ටො - ලාවනී
  - (4) ජප් තාල් - දීප්වන්දි
- (08) ස ග රි ම ග ම රි, රි ම ග ප ම ප ග.... මෙම ස්වර අභ්‍යාසයේ ඊලඟ පියවරට අයත් ස්වර වන්නේ,
  - (1) ග ම ග ප ම ප ග -
  - (2) ග ප ම ප ම රි -
  - (3) ග ප ම ධ ප ම ග -
  - (4) ග ප ම ධ ප ධ ම -

- (09) සරි ගම යන ස්වර හතරේ එක් එක් ස්වර අතර පරතරය නිවැරදිව දැක්වෙන පිළිතුර නම්,  
 (1) Tone, Tone, Semi tone (2) Tone, Semi Tone, Tone  
 (3) Semi tone, Tone, Tone (4) Tone, Tone, Tone
- (10) ඇතැම් වර්ත කොළපතකින් සාදාගත් වෙස් මුහුණු පැළඳ රංගනයේ යෙදෙන ගැමි නාට්‍ය ශෛලිය කුමක් ද?  
 (1) කෝළම් (2) සොකරි (3) නාඩගම් (4) නූර්ති
- (11) නව නාට්‍ය ශීයක් නොවන්නේ මින් කුමක් ද?  
 (1) යස ඉසුරු පිරුණු තැනා (2) දීකිරි දීකිරි ගෙනාවා දීකිරි  
 (3) ලෝනා මුණි රාජාගේ (4) සුවඳ සබන් ඇඟ ගාලා
- (a) පහතරට වන්නම් සින්දු වන්නම් නමින්ද හැඳින්වේ.
  - (b) උඩරට වන්නම් ගණනින් 24කි.
  - (c) දවුල් පදය, තානම, කවිය, කලාසම, අඩව්ව සබරගමු වන්නමක අංග වේ.
- (12) ඉහත ප්‍රකාශ අතරින්  
 (1) a හා b පමණක් නිවැරදිය (2) b හා c පමණක් නිවැරදිය  
 (3) a හා c පමණක් නිවැරදිය (4) a b c ප්‍රකාශ තුනම නිවැරදිය
- (13) ගීත තැටිගත කිරීම සඳහා භාවිතා කළ පැරණිම උපාංගය කුමක් ද?  
 (1) CD තැටි (2) ග්‍රැමෆෝන් තැටි (3) Spool Tape (4) LP තැටි
- (14) ස්වර ප්‍රස්තාරයක ඇදෙන මාත්‍රා දැක්වීම සඳහා යොදන සංකේතය නම්,  
 (1) s (2) - (3) + (4) x
- (15) සරල ගීතයක බහුලව දක්නට ලැබෙන ආකෘතිය නම්,  
 (1) පෙර වාදනය, අතුරු වාදනය, ස්ථායී, අන්තරා  
 (2) ස්ථායී, පෙර වාදනය, අන්තරා, අතුරු වාදනය  
 (3) පෙර වාදනය, අන්තරා, අතුරු වාදනය, ස්ථායී  
 (4) පෙර වාදනය, ස්ථායී, අතුරු වාදනය, අන්තරා
- (16) වැලපුම් ගී, හටන් ගී, සංදේශ කාව්‍ය යන ගීත ජන ගී වර්ගීකරණයේ දී  
 (1) ගැමි ගී යටතේ ගැනේ (2) ඇදහිලි ගී යටතේ ගැනේ  
 (3) සේ ගී යටතේ ගැනේ (4) සමාජයීය ගී යටතේ ගැනේ
- (17) අවග්‍රහයෙන් ගැයෙන ගී පාදය දැක්වෙන පිළිතුර තෝරන්න.  
 (1) දොයි දොයි දොයි දොයි බබා (2) රන් දැකැති ගෙන නිති සැරසෙනවා  
 (3) උදයට පායන හිරු දෙවියන්ටයි (4) ඔයිරයිරේ ඔයි රාමා
- (18) යමන් රාගය ඇසුරින් තනූ නිර්මාණය කළ සරල ගීතයක් නොවන්නේ,  
 (1) කළිඳු ගංගා දෙනියේ වන තීරේ.... (2) හදේ කොතැනක හෝ හිදී ඔබ  
 (3) සාදු දන්න දා.... (4) අඳුර අඳුර මගේ....

- (19) සෝබාව දේ මෙපුර සිරි විසිතුරු.... ගීතය ඇතුළත් නාට්‍යය නම්,  
 (1) රාජ කපුරු (2) තාරාවෝ ඉගිලෙති  
 (3) රතු හැට්ටකාරි (4) මධුර ජවනිකා

- (20) තිත් රූප දෙකකට ගායනය කරන සබරගමු වන්නම කුමක් ද?  
 (1) නෛඞ්ඞ වන්නම (2) උකුසා වන්නම  
 (3) කෝකිල වන්නම (4) තිසරා වන්නම

(21) | සුරි ග්‍රහ ධස් රිඟ් | රිඟ් ධස් ග්‍රි සු- | මෙහි දැක්වෙන්නේ,

- (1) බිලාවල් රාගයට අයත් සරල තානයකි.  
 (2) භූපාලි රාගයට අයත් අලංකාරික තානයකි.  
 (3) බිලාවල් රාගයට අයත් මිශ්‍ර තානයකි.  
 (4) භූපාලි රාගයට අයත් සරල තානයකි.

● පහත ගී පාද ඇසුරෙන් ප්‍රශ්න අංක 22 සිට 25 දක්වා පිළිතුරු සපයන්න.

- A - සදවා සුදුවැලි පිවිතුරු  
 B - දුප්පත් කමට ගොන් බැඳගෙන දක්කනවා  
 C - දඩි බිඩි ගගා කරනා වැඩ  
 D - දොඩම් කපාලා ඇඹුල් තනාලා  
 E - සීත ගඟුලෙදී ඇද පේවෙනවා  
 F - පැහැසරණිය මිණි පැමිණිය

- (22) ඉහත ගී පාද අතරින් අනාසාතාත්මක ගැමි ගී දැක්වෙන අක්ෂර වන්නේ,  
 (1) C හා D (2) B හා C (3) C හා E (4) A හා F

- (23) ඉහත ගී පාද අතරින් සමාජයීය ගී යටතට ගැනෙන ගී පාදය දැක්වෙන අක්ෂරය කුමක් ද?  
 (1) B (2) C (3) D (4) E

- (24) සැදුස්මක් හා ගීමක් සමාන වන පැදි වන්නේ,  
 (1) AD හා E (2) A හා D (3) A හා E (4) D හා E

- (25) යති සහිත ආසාතාත්මක ගී පාදය නම්,  
 (1) A (2) C (3) E (4) F

- (26) රිද්මය සැපයිය හැකි තත්වාද්‍ය භාණ්ඩය කුමක් ද?  
 (1) වයලීනය (2) සිතාරය  
 (3) ගිටාරය (4) දිල්ලර්බාව

- (27) ප්‍රාග්, ජූපිටර්, ද මැජික් ෆ්ලූට් වැනි සංඛ්‍යාති නිර්මාණය කළ සංගීතඥයා නම්,  
 (1) මෝසාර්ට් (2) බීතෝවන්  
 (3) ජුබර්ට් (4) යානි

(28) ප නි රී යන ස්වර තුනෙහි මැද ස්වරය Semitone එකක් අඩු කර ස්වර තුන එකවර වාදනය කළ විට ලැබෙන Chord එක නම්,

- (1) G Major                      (2) G Minor                      (3) C Major                      (4) C Minor

(29) වෙස් මුහුණු නාටකය ලෙස හඳුන්වන රංග සම්ප්‍රදාය නම්,

- (1) සොකරි                      (2) කෝළම්                      (3) නාඩගම්                      (4) නූර්ති


(30) නව නාට්‍ය සම්ප්‍රදායේ පුරෝගාමියා වශයෙන් සැලකෙනුයේ,

- (1) මහාචාර්ය එදිරිවීර සරච්චන්ද්‍ර මයා                      (2) හෙන්රි ජයසේන මයා  
(3) දයානන්ද ගුණවර්ධන මයා                      (4) ගුණසේන ගලප්පත්ති මයා


● පහත රූප සටහන් ඇසුරෙන් ප්‍රශ්න අංක 31 සිට 35 දක්වා පිළිතුරු සපයන්න.




A



B



C



D

(31) නූර්ති හා නාඩගම් රංග සම්ප්‍රදායන්හි භාවිතා වන තාල වාද්‍ය භාණ්ඩ දෙකේදී අක්ෂර වන්නේ,

- (1) A හා B                      (2) B හා C                      (3) A හා D                      (4) C හා D

(32) ගම්භීර කාලිංග නුවර... මෙම ගීතය සඳහා ගැලපෙන තාල වාද්‍ය භාණ්ඩය කුමක් ද?

- (1) A                      (2) B                      (3) C                      (4) D

(33) දේශීය සංගීත භාණ්ඩ අතරින් විතතාතන ගණයට අයත් වන්නේ,

- (1) A                      (2) D                      (3) B                      (4) C

(34) "සේවිත පාද සරෝරුහ.." මෙම ගීතය ගායනයේ දී වාදනය සඳහා සුදුසු අවනද්ධ භාණ්ඩය කුමක් ද?

- (1) A                      (2) B                      (3) C                      (4) D

(35) හේවිසි වාදනයේ දී යොදා ගන්නා වාද්‍ය භාණ්ඩය වන්නේ,

- (1) A                      (2) B                      (3) C                      (4) D

(36) "හෙළ ගී මග" නම් කෘතිය රචනා කරන ලද සංගීතඥයා වන්නේ,

- (1) ඩබ්. බී. මකුලොඵව මයා                      (2) සී. ද. එස්. කුලතිලක මයා  
(3) ලයනල් රත්වල මයා                      (4) රෝහණ බැද්දගේ මයා

(37) |ග - ම| ප - ධ| නි - -| - - - |

ඉහත සඳහන් ගී පාදය මධ්‍යම භාවයෙන් ලියූ විට නිවැරදි පිළිතුර වන්නේ කුමක් ද?

- (1) |ධ - නි| ස - ග| රී - -| - - - |  
(2) |ධ - නි| ස - රී| ග - -| - - - |  
(3) |ධ - නි| ස - රී| ගු - -| - - - |  
(4) |ප - ධ| නි - ස| රී - -| - - - |

(38) බටහලා වාදනයේ ප්‍රචිත ඉන්දියානු සංගීතඥයකු වන්නේ,

- (1) ජග් ජන් සිං
- (2) හරි ප්‍රසාද් චෝරසියා
- (3) ශබ්ද්‍ර හුසේන්
- (4) ඒ. ආර්. රත්නමානි

(39) මහනුවර කවිකාර මඩුව ආශ්‍රිතව ප්‍රචලිත වූ ගීත විශේෂයකි.

- (1) නාඩගම්
- (2) කෝළම්
- (3) නූර්ති
- (4) ප්‍රශස්ති

(40) ' = - = = j » = = !

ඉහත ස්වර ප්‍රස්තාරය පෙරදිග ක්‍රමයට ප්‍රස්තාර කළ විට නිවැරදි පිළිතුර වනුයේ,

- (1) | ශ්‍රී - |
- (2) | ශ්‍රී - - |
- (3) | ශ්‍රී - |
- (4) | ශ්‍රී - - |

|   |  |  |
|---|--|--|
| බස්නාහිර පළාත් අධ්‍යාපන දෙපාර්තමේන්තුව<br>மேல் மாகாணக் கல்வித் திணைக்களம்<br>Department of Education - Western Province |  |  |
|---|--|--|

|   |   |                                   |                                       |
|---|---|-----------------------------------|---------------------------------------|
| වර්ෂ අවසාන ඇගයීම<br>ஆண்டிறுதி மதிப்பீடு - 2017<br>Year End Evaluation |   |                                   |                                       |
| ශ්‍රේණිය } 11<br>தரம் } Grade   | විෂයය }<br>பாடம் } පෙරදිග සංගීතය<br>Subject } | පත්‍රය } II<br>வினாத்தாள் } Paper | කාලය } ෪෭<br>காலம் } පැය 02<br>Time } |

**සැලකිය යුතුයි:**

- පළමු ප්‍රශ්නය ඇතුළුව ප්‍රශ්න පහකට පමණක් පිළිතුරු සපයන්න.

- (01) (i) ග රි ග ප ධ නි ස් යන ස්වර සංගතිය කුමන රාගයකට අයත් වේ ද?  
 (ii) ස්වර 2ක් වර්ජ්‍ය වන රාගය කුමක් ද?  
 (iii) ඉහත (ii) ප්‍රශ්නයට අදාළ රාගයේ මේලය කුමක් ද?
- (IV) සිට (VIII) තෙක් හිස්තැන් සඳහා ගැලපෙන පිළිතුරු වරහන් තුළින් තෝරා ලියන්න.  
 (ගුත්තිල කාවයේ ගී, මැදුම් තනි තිත, මැදුම් මහ දෙතිත, වන්නම්, ප්‍රශස්ති, )

| ගී පාදය                | ගී නාමය     | වාදනයට සුදුසු තිත |
|------------------------|-------------|-------------------|
| සඳවා සුදුවැලි පිවිතුරු | (iv) .....  | (v) .....         |
| තුරු රත්ත සිරි ලෙසිනා  | (vi) .....  | මැදුම් මහ දෙතිත   |
| සේවිත පාද සරෝරුහ       | (vii) ..... | (viii) .....      |

- හිස්තැනට සුදුසු පිළිතුර අංක ඉදිරියෙන් ලියන්න. (ලකුණු 08)
- ප්‍රේමයෙන් මන රංජිත වේ නන්දිත වේ ගීතය (ix) ..... රංග ශෛලියේ අභාෂයෙන් (x) ..... ශූරීන් නිර්මාණය කළ නව නාට්‍යයක ගීයකි. "සවන්දී පෙර රාම වරිතේ" ගීතය (xi) ..... නූර්තියේ ගීතයක් වන අතර එම නූර්තියේ ගී තනු සඳහා (xii) ..... සංගීතයේ ආභාසය ලැබී ඇත.  
 (ලකුණු 04)

- (02) පහත දී ඇති වගුව අධ්‍යයනය කර හිස්තැනට අදාළ පිළිතුර ඒ ඒ අක්ෂරය ඉදිරියෙන් ලියන්න.

| (1) | විස්තරය                              | රාගය  | ජාතිය    | වාදී ස්වරය |
|-----|--------------------------------------|-------|----------|------------|
| A   | උදය කාලයේ ගැයෙන රාගයකි.              | ..... | .....    | ධ          |
| B   | විකෘති ස්වර 1ක් සහිත රාගයකි.         | ..... | සම්පූර්ණ | ග          |
| C   | සවස 6 - 9 අතර කාලය තුළ ගැයෙන රාගයකි. | ..... | ඔෟඩව     | .....      |
| D   | ස්වර 12ම යෙදිය හැකි රාගයකි.          | ..... | .....    | .....      |

(ලකුණු 08)

- (ii) B හෝ C රාග 2න් එකකට අයත් මධ්‍යලය ගීතයක හෝ ලක්ෂණ ගීතයක හෝ වාදිතයක ස්ථායී කොටස තාල සංකේත සහිතව ස්වර ප්‍රස්තාර කරන්න.  
 (ලකුණු 04)

(03) (i) පහත ගී පාද 4 සඳහා වාදනය කළ හැකි තාල අදාල ඉංග්‍රීසි අක්ෂරය යටතේ ලියන්න.

- A - සිසිල් සුළං ගතේ වෙළී සිත සැනසෙන්නේ .....
- B - සසල ලොව තුළ නිසල නෙන් යුග .....
- C - සයුරේ පෙරළෙන රළගෙඩි වාගේ .....
- D - සිරි සාර ලංකා රමණීය ලංකා .....

(ලකුණු 04)

(ii) B ගීතයට අදාළ තාලය තාල සංඥා සහිතව ප්‍රස්තාර කරන්න. (ලකුණු 04)

(iii) හින්දුස්ථානී තාල 4 කින් උපුටාගත් විභාග 4ක් පහත දැක්වේ. එම තාල 4 හි නම් ලියා අදාල පද කොටස් තාල නාම ඉදිරියේ ලියන්න.

|          |               |
|----------|---------------|
| ධා තු නා | ධා ධිං ධිං ධා |
| ධිනා     | ධා ධිං s      |

(ලකුණු 04)

(04) (i) පහත 'අ' කොටසේ දැක්වෙන ගීත වලට අදාල කරුණ 'ඇ' කොටසින් තෝරා අදාල අක්ෂරය ඉදිරියේ ලියන්න.

| 'අ'                          | 'ඇ'  |
|------------------------------|--|
| A සුදු සඳ එළියේ නල මත පොපියන | <ul style="list-style-type: none"> <li>• සෝමදාස ඇල්විටිගල ගුරින් විසින් තනු නිර්මාණය කළ ගීතයකි</li> <li>• අමරදේවයන් සංගීතය සැපයූ චිත්‍රපට ගීයකි.</li> <li>• සුනිල් ශාන්තයන් විසින් තනු නිර්මාණය කළ ගීතයකි</li> <li>• මුල් යුගයේ ගුවන් විදුලි සරල ගීයකි.</li> </ul> |
| B එන්ඩිද මැණිකේ මමත් දියඹටා  |  |
| C ආරිච්චි බෝරිච්චි           |  |
| D සිනිදු සුදු මුතු තලාවේ     |  |

(ලකුණු 04)

(ii) සිනිදු සුදු මුතු තලාවේ ගීය තුළ බටහිර සංගීත ආභාෂය ප්‍රකට කෙරෙන කරුණු 2ක් ලියන්න.

(ලකුණු 02)

(iii) මුල් යුගයේ ගුවන් විදුලි සරල ගී සඳහා දායක වූ සංගීතඥයින් දෙදෙනෙකුගේ නම් ලියා එම ගී තුළ අන්තර්ගත ලක්ෂණ 4ක් ලියන්න.

(ලකුණු 1 × 6 = 6)

(05) (i) සංගීත නිර්මාණකරුවෙකුට පරිගණකය භාවිතයෙන් ලැබෙන ප්‍රයෝජන 2ක් ලියන්න.

(ලකුණු 04)

(ii) සංගීතය හදාරන ශිෂ්‍යයකුට පරිගණකය භාවිතයෙන් ලබාගත හැකි ප්‍රයෝජන 2ක් ලියන්න.

(ලකුණු 04)

(iii) සංගීත පටිගත කිරීමට යොදාගත හැකි මෘදුකාංග 2ක් නම් කරන්න.

(ලකුණු 04)

- (06) (a) දැනට වලලු මල් මුතු වැල්.....  
 (b) මල් සරා බැල්ම හෙළා මගේ සිතට කොඳුරනවා....  
 (i) a හා b අක්ෂර යටතේ දක්වෙන ගීත නිර්මාණය කළ සංගීත නිර්මාණකරුවන්ගේ නම් ලියා එම ගීත වල තනු නිර්මාණයට මූලාශ්‍ර වූ ජන ගී නම් කරන්න. (ලකුණු 04)  
 (ii) එම සංගීත නිර්මාණකරුවන් අතරින් එක් අයෙකු විසින් ලාංකේය සංගීතයට සිදු කළ මෙහෙවර කරුණු 4කින් දක්වන්න. (ලකුණු 04)  
 (iii) ගැමි ගී, සේ ගී අතර සම විෂමතා 2 බැගින් ලියන්න. (ලකුණු 04)

